

۱. جدول را کامل کنید.

گسترده	حروف	رقم
		۹۰۰۵۴۳۶۰۰
	دو میلیارد و سیصد و نه میلیون و چهارصد و بیست	
۵۰۰۰۰۰۰۰۰+۸۰۰۰۰+۳۰۰۰+۹۰۰+۲۰+۱		

۲. با توجه به عدد « ۵۹ ۰۰۰ ۶۰۵ ۱۲۰ » به سوالات پاسخ دهید.

الف) به حروف بنویسید.

ب) عدد را در جدول ارزش

مکانی قرار دهید.

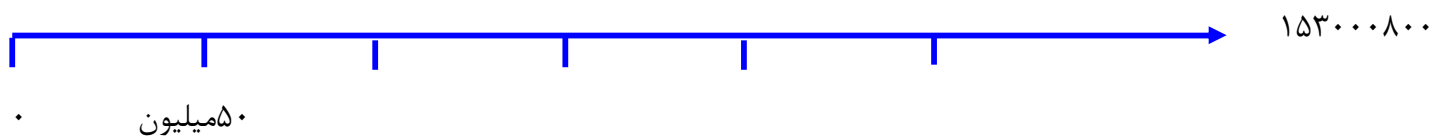
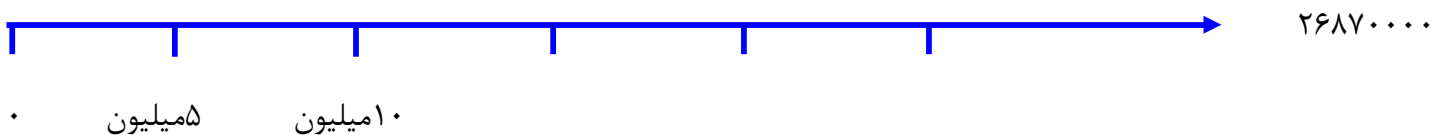
میلیارد			میلیون			هزار					
ص	د	ی	ص	د	ی	ص	د	ی	ص	د	ی

پ) کدام رقم دارای ارزش مکانی یکان میلیارد است؟

ت) ارزش مکانی رقم ۶ را بنویسید.

ث) رقم های طبقه میلیون را بنویسید.

۳. محل تقریبی هر عدد را روی محور مشخص کنید.



۴. ضرب ها را به صورت ذهنی حساب کنید.

۶۰۰۰ × ۳۰۰۰ =

۲۰۰۰۰ × ۱۰۰ =

۱۰۰ × ۹۰۰۰۰ =

۴۰۰۰ × ۷۰۰۰۰ =

۵. حاصل ضرب ها را بدست آورید .

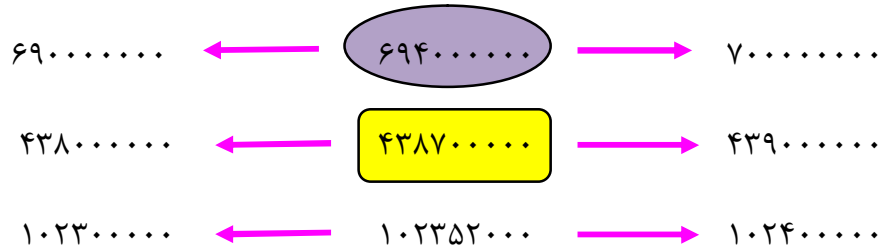
$$\begin{array}{r} 9112 \\ \times 71 \\ \hline \end{array}$$

$$\begin{array}{r} 3145 \\ \times 64 \\ \hline \end{array}$$

$$\begin{array}{r} 7286 \\ \times 32 \\ \hline \end{array}$$

$$\begin{array}{r} 4542 \\ \times 15 \\ \hline \end{array}$$

۶. عدد وسطی به کدام عدد نزدیک تر است ؟ آن را رنگ بزنید .



۷. جاهای خالی را کامل کنید .

الف ( نصف سی میلیون می شود : .....

ب ( ۱۲ تا ۱۰۰۰۰ تایی و ۰۳ تا ۱۰۰ تایی می شود : .....

پ ( ۴۰۰۰ تا کمتر از ۱۰۰ تا ۶۰۰ تایی می شود : .....

ت ( بیست میلیون منهای پانزده میلیون می شود : .....

ث ( خمس ۵۰۰ میلیون برابر است با .....



۸. حاصل تقسیم ها را محاسبه کنید . ( لطفا از ماشین حساب استفاده نشود )

$$\begin{array}{r} 9527 \\ \hline 45 \end{array}$$

$$\begin{array}{r} 1932 \\ \hline 15 \end{array}$$

$$\begin{array}{r} 8570 \\ \hline 24 \end{array}$$

دخترم ، کاربرگ را در چه ساعتی انجام دادی ؟

انجام کاربرگ چه مدت طول کشید ؟

موفق باشید - محبی

